
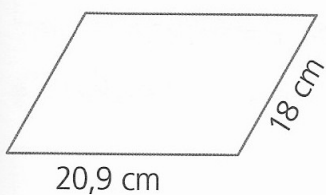
 Risolvi su un foglio protocollo

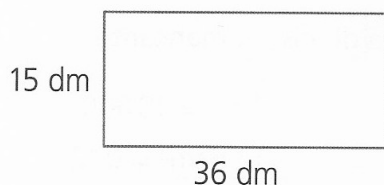
RICORDA: prima di scrivere dati e richiedi, disegna la figura e indica su di essa le misure

- In un triangolo scaleno, i lati misurano rispettivamente 13,8 dm, 15 dm e 7 cm.
Qual è il perimetro in centimetri?
- La nonna Caterina ha comprato una tovaglia rettangolare che ha i lati che misurano 4 m e 1,80 m. Vuole mettere un pizzo al bordo della tovaglia.
Quanto pizzo deve comprare?

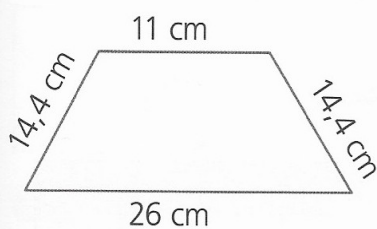
 Calcola il **perimetro** dei seguenti quadrilateri facendo attenzione alle unità di misura.



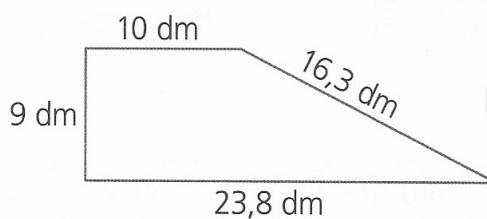


P = cm



P = dm



P = dm



P = cm